

ВОПРОСЫ ДЛЯ ПОДГОТОВКИ  
К ПРОМЕЖУТОЧНОЙ АТТЕСТАЦИИ ПО ГЕОГРАФИИ

Часть А

1. В каком океане находится Марианский глубоководный желоб?  
1) Индийском 2) Тихом 3) Атлантическом 4) Северном Ледовитом.
2. Какое из перечисленных морских течений действует в Тихом океане?  
1) Гольфстрим 2) Бразильское 3) Гвинейское 4) Куроисио.
3. Скрэб(заросли колючих кустарников) характерны для материка:  
1) Австралии 2) Африки 3) Южной Америки 4) Антарктиды
4. Одним из основных современных видов хозяйственной деятельности человека в тундре является:  
1) заготовка леса 2) добыча полезных ископаемых 3) разведение скота 4) выращивание зерна
5. Месторождения каких полезных ископаемых приурочены к древним платформам?  
1) нефти 2) железных руд 3) медных руд 4) полиметаллических руд
6. Кто из перечисленных путешественников внес большой вклад в открытие и изучение Африки?  
1) И. Москвитин 2) Д. Кук 3) Д. Ливингстон 4) Ф. Магеллан
7. Какой буквой на карте обозначен субэкваториальный пояс?  
1) А 2) Б 3) В 4) Г



8. Умеренный морской климат характерен для:  
1) острова Суматра 2) Пиренейского полуострова 3) о. Великобритания 4) п-ова Юкатан
9. На каком из полуостровов в течение года действуют муссоны?  
1) Лабрадор 2) Аляска 3) Индокитай 4) Сомали
10. Какой буквой на карте обозначена гора Аконкагуа?



- 1) А 2) Б 3) В 4) Г

11. Для какой из перечисленных природных зон характерно наибольшее количество грызунов?  
1) тайги 2) тундры и лесотундры 3) степи 4) полупустыни и пустыни
12. На какой из перечисленных рек встречается большое количество порогов?  
1) Волга 2) Амазонка 3) Конго 4) Миссисипи
13. Признаком морского типа климата является:  
1) лето сухое и жаркое 2) зима влажная и теплая 3) большая амплитуда колебания температур
14. Как называются ветры, дующие вдоль умеренных поясов двух полушарий?  
А) пассаты  
Б) западные ветры

В) северо – восточные ветры

**15. К холодным течениям относятся:**

А) Перуанское и Гольфстрим

Б) Гольфстрим и Калифорнийское

В) калифорнийское и Перуанское.

**16. Какие живые организмы увеличивают количество кислорода в водах океана?**

А) нектон

Б) фитопланктон

В) зоопланктон.

**17. В каком океане больше всего островов?**

А) в Тихом

Б) в Атлантическом

В) в Индийском.

**18. Водная оболочка Земли называется...**

А) гидросферой

Б) атмосферой

В) биосферой

**19. Дуб, мирт, дикая маслина- представители природной зоны:**

1) экваториальных лесов 2) жестколистных лесов 3) тропических пустынь 4) широколиственных лесов

**20. На каком из островов среднегодовое количество осадков максимально?**

1) Исландия 2) Калимантан 3) Мадагаскар 4) Тасмания.

**21. Самая высокая вершина мира Джомолунгма расположена в горах:**

1) Кордильерах 2) Андах 3) Гималаях 4) Альпах.

**22. Какой материк самый жаркий:**

1) Африка

2) Австралия

3) Южная Америка

4) Северная Америка

**23. Крайняя южная точка Африки:**

1) мыс Игольный 2) мыс Доброй Надежды 3) мыс Альмади 4) мыс Рас-Хафун.

**24. Среди перечисленных бессточным озером является:**

1) Байкал

2) Виктория

3) Чад

4) Онежское.

**25. Климатический пояс Африки с ярко выраженной сезонностью: сухой зимой и влажным летом:**

1) экваториальный 2) субэкваториальный 3) тропический 4) субтропический.

**26. Самое соленое море относится к бассейну:**

1) Тихого океана

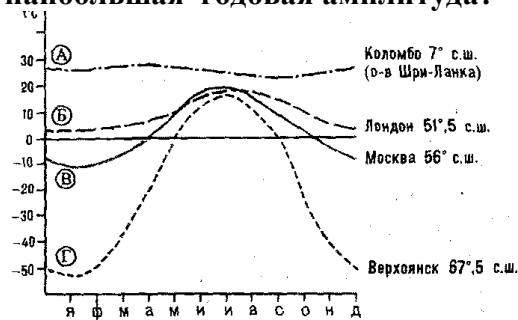
2) Атлантического океана

3) Индийского океана

4) Северного Ледовитого

**27. Используя график годового хода температур, определите, какой буквой обозначена наибольшая годовая амплитуда?**

1) А 2) Б 3) В 4) Г



**28. Какой океан самый теплый по температуре поверхностных вод?**

1) Индийский

2) Тихий

3) Атлантический

4) Северный Ледовитый.

**29. Самое мощное теплое течение в Мировом океане:**

1) Гольфстрим

2) Бразильское

3) Гвинейское

4) Куроисио

**30. Разнообразные пальмы, фикусы, обилие лиан характерно для природной зоны:**

1) саванн и редколесий

2) влажных экваториальных лесов

3) пустынь

4) смешанных лесов

**31. Какая из перечисленных горных систем самая протяженная?**

1) Кордильеры

2) Урал

3) Альпы

4) Аппалачи

**32. Нижний слой атмосферы называется...**

А) литосфера

Б) тропосфера

В) стратосфера

**33. Какое явление является причиной суточной ритмичности?**

- А) вращение Земли вокруг Солнца
- Б) вращение Земли вокруг своей оси
- В) все утверждения верны.

**34. Крупнейшая по водности река Африки:**

- 1) Конго
- 2) Нил
- 3) Нигер
- 4) Замбези

**35. У побережий, омываемых холодными течениями, обычно формируется природная зона:**

- 1) лесов
- 2) тундр
- 3) пустынь
- 4) экваториальных лесов

**36. Среднегодовые температуры на климатической карте изображаются при помощи:**

- 1) изобар
- 2) изотерм
- 3) цветовой окраски
- 4) подписываются цифрами.

**37. Самый освоенный в хозяйственном отношении океан?**

- 1) Северный Ледовитый
- 2) Тихий
- 3) Индийский
- 4) Атлантический

**38. Кто из путешественников уточнил береговую линию Африки на юге и обогнул южную оконечность материка?**

- 1) Д. Ливингстон
- 2) В. Юнкер
- 3) Васко да Гама
- 4) Д. Кук

**39. Муссонный тип климата характерен для полуостровов:**

- 1) Аравийского
- 2) Скандинавского
- 3) Камчатки
- 4) Индокитая

**40. Какая из перечисленных горных систем самая высокая:**

- 1) Гималаи
- 2) Анды
- 3) Атлас
- 4) Кордильеры.

**41. Для какой из природных зон характерно безлесье?**

- 1) тайга
- 2) жестколистные вечнозеленые леса и кустарники
- 3) саванна
- 4) тундра

**42. Признаком континентального климата является:**

- 1) лето сухое и жаркое
- 2) зима влажная и теплая
- 3) большая амплитуда колебания температур

**43. Какой буквой на карте обозначен вулкан Килиманджаро?**



- 1) А
- 2) Б
- 3) В
- 4) Г

**44. Самый влажный материк:**

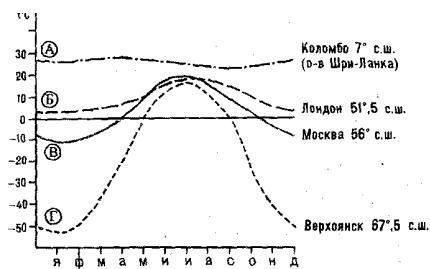
- 1) Австралия
- 2) Африка
- 3) Южная Америка
- 4) Северная Америка.

**45. Крайняя западная точка Африки:**

- 1) мыс Игольный
- 2) мыс Доброй Надежды
- 3) мыс Альмади
- 4) мыс Рас-Хафун.

**46. Используя график годового хода температур, определите, какой буквой обозначена наименьшая годовая амплитуда?**

- 1) А
- 2) Б
- 3) В
- 4) Г



**47. Климатический пояс Африки с ярко выраженной сезонностью: влажной зимой и сухим летом:**

- 1) экваториальный
- 2) субэкваториальный
- 3) тропический
- 4) субтропический.

**48. Кто первым создал географическую карту?**

- А) Эратосфен
- Б) Аристотель

В) Геродот.

**49. Низкие температуры и пониженное влагосодержание характерны для воздушных масс:**

- 1) экваториальных 2) тропических 3) умеренных 4) арктических

**50. Соболь- животное, обитающее в природной зоне:**

- 1) степей 2) тайги 3) пустынь 4) тундры

**51. Наименьшая соленость вод Мирового океана отмечается там, где количество осадков:**

- 1) превышает испарение 2) равно испарению 3) ниже испарения 4) не зависит от испарения

**52. Самый большой по площади материк?**

А) Евразия

Б) Африка

В) Северная Америка.

**53. Красно-желтые ферралитные почвы распространены в природной зоне:**

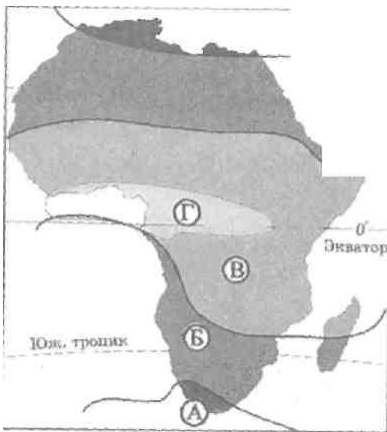
- 1) степей 2) пустынь 3) экваториальных лесах 4) тайге.

**54. Месторождения, каких полезных ископаемых приурочены к складчатым поясам?**

- 1) медные руды 2) нефть 3) природный газ 4) каменный уголь

**55. Какой буквой на карте обозначен экваториальный пояс?**

- 1) А 2) Б 3) В 4) Г



**56. Общая площадь поверхности земного шара?**

А)

Б) 320.2 кв.км.

В) 18.3 млн. кв. км.

**57. Уменьшенное плоское изображение земной поверхности называется...**

А) карта

Б) глобус

В) план местности.

**58. Для того чтобы перенести с глобуса на карту точное изображение земной поверхности используют...**

А) масштаб

Б) картографические проекции

В) условные обозначения.

**59. Твёрдая оболочка Земли, охватывающая земную кору и верхнюю часть мантии, называется...**

А) биосфера

Б) атмосфера

В) литосфера

**60. Кто основал теорию литосферных плит?**

А) А. Гумбольдт

Б) А. Вегенер

В) Х. Колумб.

**61. Как изменяется количество солнечного тепла, поступающего на Землю, от полюсов к экватору?**

А) увеличивается

Б) уменьшается

В) не изменяется.

**62. В каком поясе больше всего выпадает осадков?**

- А) в арктическом
- Б) в тропическом
- В) в экваториальном

**63. Почему пресная вода не иссякает?**

- А) существуют океаны и моря
- Б) реки и озёра
- В) круговорот воды в природе.

**64. Какая основная причина морских приливов?**

- А) океанические течения
- Б) притяжения воды луной
- В) ветры

**65. От чего образуются цунами?**

- А) моретрясение
- Б) ветер
- В) океанские течения.

**66. Что такое архипелаг?**

- А) группа островов
- Б) коралловые острова.
- В) вулканические острова.

**67. Кто доказал, что Австралия не часть Антарктиды, а самостоятельный материк?**

- А) Абель Тасман
- Б) Джеймс Кук
- В) Васко да Гама

**68. Какие из этих названий относятся к Австралии?**

- А) горы Атлас, остров Ява
- Б) о. Тасмания, Большой водораздельный хребет
- В) Сидней, Каир.

**69. Сколько государств расположено на материке Австралия?**

- А) 1
- Б) 5
- В) 17

**70. Самая низкая точка от уровня моря на материке Австралия?**

- А) озеро Эйр
- Б) озеро Чад
- В) озеро Онтарио

**71. Самая высокая точка Африки ( 5895м)?**

- А) Маргарита
- Б) Килиманджаро
- В) Тахат

**72. Самая длинная река в мире?**

- А) Нил
- Б) Амазонка
- В) Иртыш

**73. Кто из учёных открыл водопад Виктория на реке Замбези?**

- А) Васко да Гама
- Б) Генри Стенли
- В) Давид Ливингстон

**74. К антропогенным природным комплексам относят:**

- А) пашни, сады, парки, материки
- Б) сады, реки, водохранилища, каналы
- В) парки, водохранилища, каналы, пашни, сады.

**75. Какие формы образует рельеф Скандинавии?**

- А) складчатые горы
- Б) равнины и горы
- В) молодые горы.

**76. Самая высокая горная система Евразии?**

- А) Тибет
- Б) Памир

В) Гималаи.

### Часть В

#### 1. Установите соответствие.

**Природная зона:**

1. Влажные леса
2. Саванны
3. Пустыни

**Климатический пояс:**

- а) субтропический
- б) тропический
- в) субэкваториальный
- г) экваториальный.

#### 2. Установите соответствие.

**Природная зона:**

1. Степь
2. Пустыня
3. Тундра

**Животные:**

- а) верблюд
- б) лемминг
- в) суслик
- г) белка.

#### 3. Расположите материки в порядке увеличения площадей территорий с высотной поясностью.

- 1) Северная Америка
- 2) Австралия
- 3) Африка.

#### 4. Распределите океаны по мере уменьшения их площади:

- 1) Северный Ледовитый
- 2) Тихий
- 3) Индийский
- 4) Атлантический.

#### 5. Распределите южные материки по мере увеличения их площади:

- 1) Антарктида
- 2) Африка
- 3) Южная Америка
- 4) Австралия.

#### 6. Распределите климатические пояса Африки в порядке уменьшения густоты речной сети:

- 1) экваториальный
- 2) тропический
- 3) субэкваториальный.

### Часть С

1. Почему высшая точка Африки - вулкан Килиманджаро - находится в пределах платформы, а не складчатой области, как на других материках?

2. Имеются ли в Африке ледники, если да, то в какой части материка?

3. Почему на платформах, как правило, располагаются равнины?

5. Почему в складчатых поясах, как правило, располагаются горы?

6. Почему органический мир в Северном Ледовитом океане сосредоточен на шельфе?

6. Почему реки Африки слабо используются как транспортные пути?

7. Определите страну по ее краткому описанию.

*Это – одна из крупных по площади стран мира, имеет выход к трем океанам. На её территории находится одна из крайних точек материка, на котором она расположена. По суше граничит лишь с одной страной. Большая часть ее населения расположена вдоль южной границы. Страна богата разнообразными полезными ископаемыми, а также лесными, земельными, водными ресурсами.*

8. Определите страну по ее краткому описанию.

*Страна расположена на севере материка, на её территории находится его крайняя точка. Страна имеет выход к одному из крупнейших морей Атлантического океана. Здесь преобладают пустынные ландшафты, однако на севере растут оливковые деревья, апельсиновые рощи, вечнозеленые средиземноморские леса. На территории страны можно увидеть развалины древнего города Карфагена. Название столицы совпадает с названием государства.*