

# Готов ли ты к школе?


5-7 лет

Тестовые задания для проверки знаний детей

3) Выбери пропущенную картинку.




1



2



3




17) Выбери картинку, которая подходит к этому примеру.

$$2 + 3 = 7$$

1




2



3




4



23) Какая из этих фигур называется прямоугольником?

1



2



21) Реши задачу. Выбери правильный ответ. В саду растут три яблони и две груши. Сколько всего деревьев в саду?

1



2



3



4



19) Реши пример. Выбери правильный ответ.

$$6 + 3 = \dots$$

1



2



3



4



ВЕСНА



ЛИЗЯКИ

Математика

1

Выбери картинку,  
которая соответствует этой цифре.

8

2


Выбери цифру,  
которая соответствует этой картинке.



1



2




1

7

2

5

3



4



3

4

4




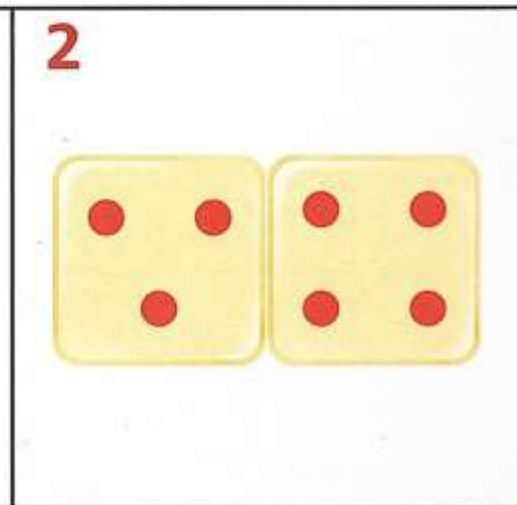
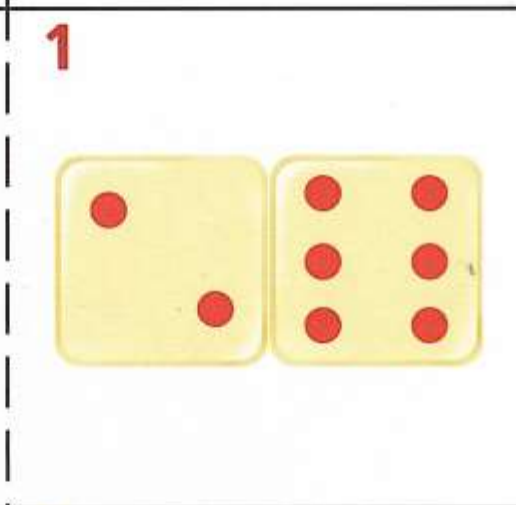
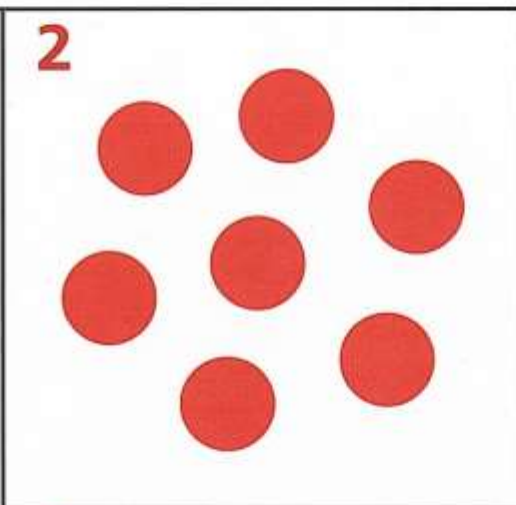

6



3 Выбери пропущенную картинку.



4 Выбери карточку, на которой составлено число 7.



5


Какая цифра пропущена? Выбери соответствующую картинку.




6

Выбери число, в котором два десятка и семь единиц.

1



2




1

20


2

27

3



4



3

72

4

70

7

Выбери цветок,  
у которого лепестков больше,  
чем у этого.




8

Выбери дом,  
у которого окон меньше,  
чем у этого.



1



2



1



2



3



4



3



4





9

Выбери цифру,  
которая подходит к этому неравенству.

$$5 > \dots$$

1

7

2

5

1

2

2

6

3

3

4

9

3

1

4

3

10

Выбери цифру,  
которая подходит к этому неравенству.

$$3 < \dots$$

1

2

2

6

3



1

4

3


11

Выбери картинку, на которой  
предметов больше, чем три,  
но меньше чем пять.



12

Какая картинка находится после  
третьей, но перед пятой?



13

Реши задачу. Выбери правильный ответ.  
У Миши три машинки, а у Димы  
на две больше.  
Сколько машинок у Димы?

1



2



3



4



14

Реши задачу. Выбери правильный ответ.  
У Тани шесть конфет, а у Лены  
на три меньше.  
Сколько конфет у Лены?

1



2



3



4





15

Сколько чашек надо добавить,  
чтобы всего стало шесть?



1



2



3



4



16

Сколько флажков нужно убрать,  
чтобы осталось три?



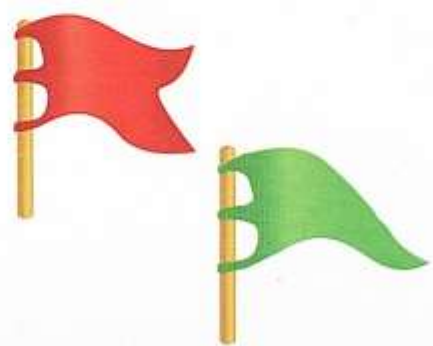
1



2



3



4



17

Выбери картинку,  
которая подходит к этому примеру.

$$4 + 3 = 7$$



18

Выбери картинку,  
которая подходит к этому примеру.

$$5 - 2 = 3$$





19

Реши пример. Выбери  
правильный ответ.

$$6 + 3 = \dots$$

1

10

2

9

1

4

2

6

3

6

4

8

3

5

4

7

20

Реши пример. Выбери  
правильный ответ.

$$7 - 2 = \dots$$

21

Реши задачу. Выбери  
правильный ответ.  
В саду растут три яблони  
и две груши. Сколько всего  
деревьев в саду?



1

4

2

5

1

2

2

1

22

Реши задачу. Выбери  
правильный ответ.  
На пруду плавали  
четыре утки. Две вышли на берег.  
Сколько осталось плавать?



1

2

2

1

3

4

4

3

3

7

4

6



23

Какая из этих фигур называется  
прямоугольником?

1



2



3



4



24

У какой из этих фигур  
нет углов?

1



2



3



4



